

## 第二单元测试


(时间:40分钟 满分:100分)

### 一、认真审题,准确填空。(30分)

1. 下面的图分别是谁看到的? 填一填。



2. 下面的图分别是谁看到的? 填一填。



3. 下面的图分别是谁看到的? 填一填。



4. 五角星各在大正方体的哪个面?



5. 下面这几幅图分别是谁看到的? 填一填。



### 二、反复比较,慎重选择。(20分)

1. 下面哪一幅图是从电视机后面看到的? 在( )里画“☆”。



2. 在小男孩看到的图下面画“√”, 在小女孩看到的图下面画“○”。



3. 在小孩看到的图下面画“√”。



4. 在王亮看到的图下面画“√”，在张聪看到的图下面画“○”。

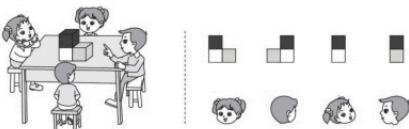


三、仔细观察，慎重连线。(下面的图形分别是谁观察到的？连一连)(24分)

1.



2.



3.



4.



四、认真审题，解决问题。(17分)

1. 看一看，想一想。(11分)



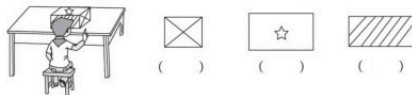
(1) 站在窗外看到的是哪幅图？(在括号里画“√”)(5分)



(2) 站在位置( )会看到下面这幅图。(6分)



2. 哪幅图是小朋友看到的？(在括号里画“√”)(6分)



五、拓展题。(9分)★★★★★

小军在桌子上垒起了两叠小方块，从两个角度观察这两叠方块，图①是从上往下看，图②是从前往后看。想一想，桌子上一共放了几叠小方块？

